




МИНИСТЕРСТВО
ПРОСВЕЩЕНИЯ
РОССИЙСКОЙ ФЕДЕРАЦИИ



ГБОУ ДПО РК
«Крымский республиканский
институт постдипломного
педагогического образования»



Формирование картографической компетенции на уроках истории

Республиканский семинар
«Школа молодых педагогов»

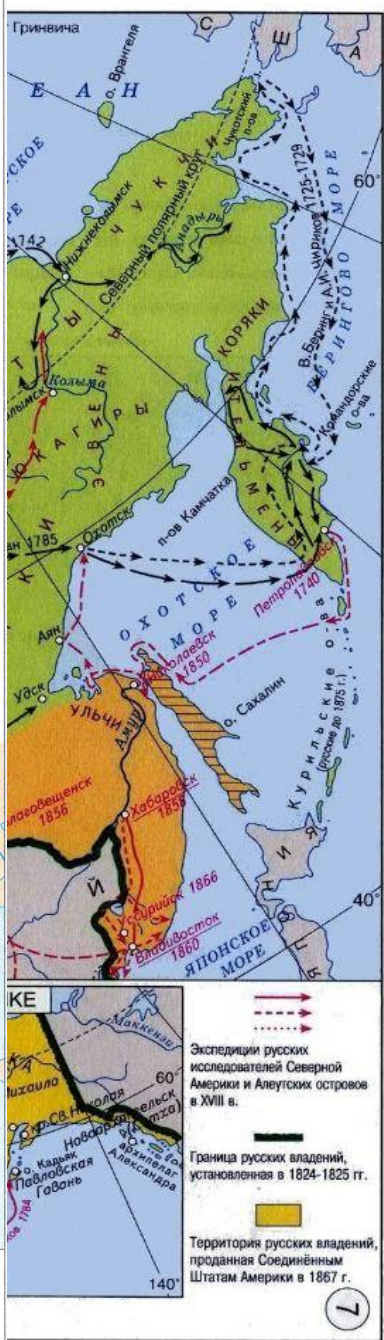
для учителей истории и обществознания, в том числе школ с низкими результатами обучения

26.03.2024
г. Симферополь

Стефанов Владимир Юрьевич, учитель истории и обществознания МБОУ «Гимназия № 5 г. Феодосии Республики Крым»

Типы исторических карт:

1. Общие
2. Обзорные
3. Тематические



ЗАДАНИЯ С КАРТАМИ В ВПР

Во всероссийских проверочных работах по истории работе с исторической картой посвящены одно-два задания в 5-8 и 11 классах.

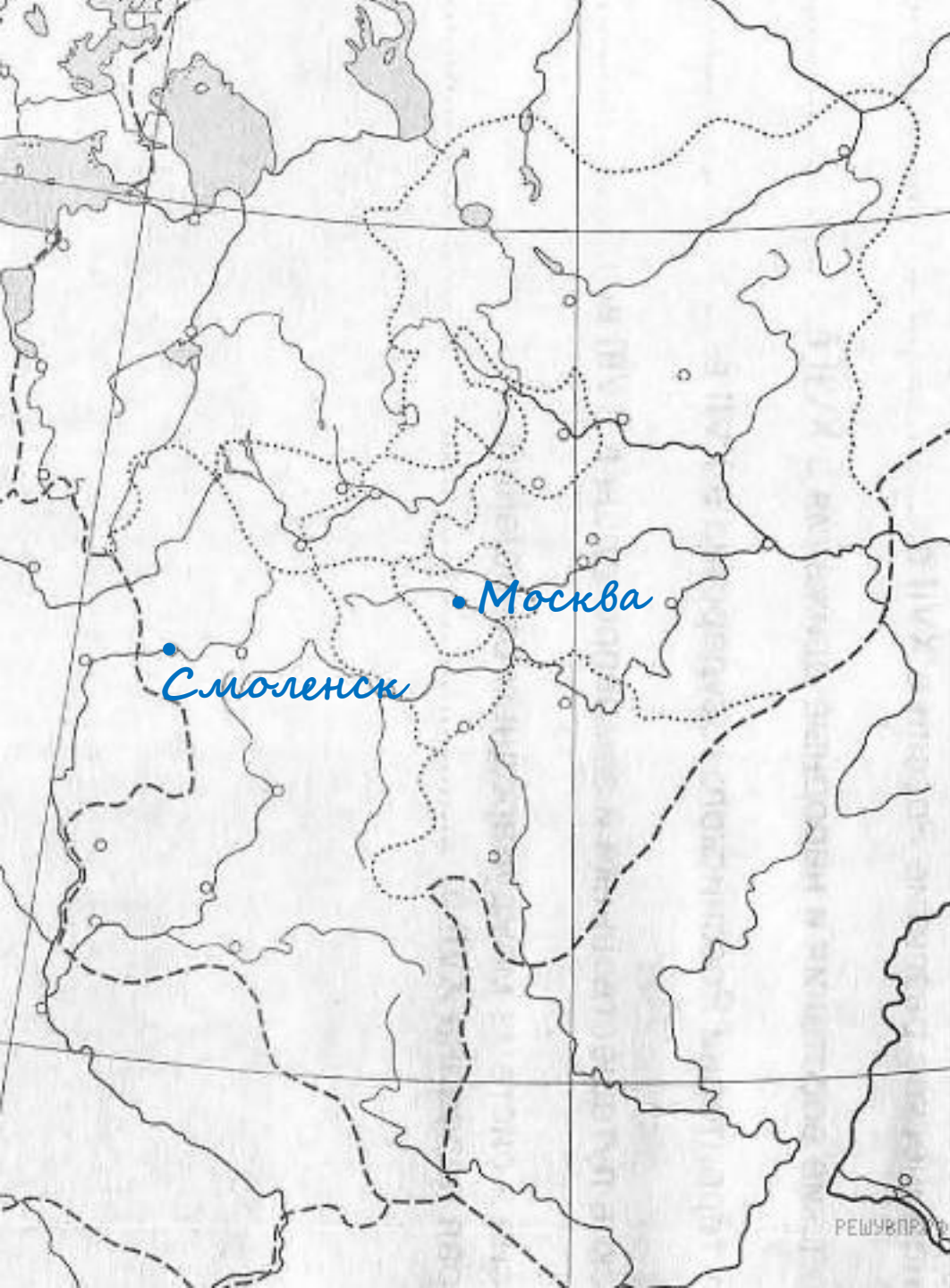




5-6 класс

Заштрихуйте на контурной карте один четырёхугольник, образованный градусной сеткой, в котором находились греческие города-государства Ольвия, Пантикапей, Херсонес.





7-8 класс

Назовите российского монарха в период, когда Московское государство достигло максимальных границ, показанных на карте.

Иван IV/Иван Грозный

Подпишите на карте город Москву и город Смоленск.



ЗАДАНИЯ С КАРТАМИ В ЕГЭ

В едином государственном экзамене по истории работе с исторической картой посвящены задания 9-12 первой части. В совокупности они могут дать пять первичных баллов.





9.

Продолжите фразу: «События, обозначенные на схеме, начались в тысяча девятьсот _____ году»

Сорок четвёртом



10.

Укажите название города, обозначенного на схеме цифрой 1.

Минск





11.

Прочтите текст о событиях, отражённых на схеме, и, используя схему, укажите название города, которое пропущено в этом тексте.

«В результате наступления РККА в Прибалтике удалось освободить от немецко-фашистских оккупантов города Ригу, _____, Каунас, Вильнюс».

Шяуляй





12.

Какие суждения, относящиеся к событиям, обозначенным на схеме, являются верными? Выберите несколько суждений из шести предложенных.

1. События, обозначенные на схеме, являются частью коренного перелома в ходе Великой Отечественной войны.
2. События, обозначенные на схеме, произошли после открытия союзниками Второго фронта в Европе.
3. На схеме обозначены действия Красной армии в ходе проведения операции «Уран».
4. Город Кенигсберг был взят Красной армией в ходе событий, обозначенных на данной схеме.
5. На схеме обозначены действия Красной армии в ходе проведения операции «Багратион».
6. В ходе событий, обозначенных на схеме, территория Белорусской ССР была полностью освобождена от немецко-фашистских захватчиков.



АНАЛИЗ ВЫПОЛНЕНИЯ ЗАДАНИЙ ЕГЭ ПО ИСТОРИЧЕСКИМ КАРТАМ

№ задания	% выполнения
9	67,9 %
10	63,5 %
11	80 %
12	45,4 %



ЗАДАНИЯ С КАРТАМИ В ОГЭ

**В основном государственном экзамене по истории
работе с исторической картой посвящены задания
8-10 первой части.**





8.

Укажите век, когда произошли события, изображенные на схеме. Ответ запишите словом.

Девятнадцатый



9.

Укажите название территории, обозначенной на карте цифрой I.

Финляндия/Великое княжество Финляндское



10.

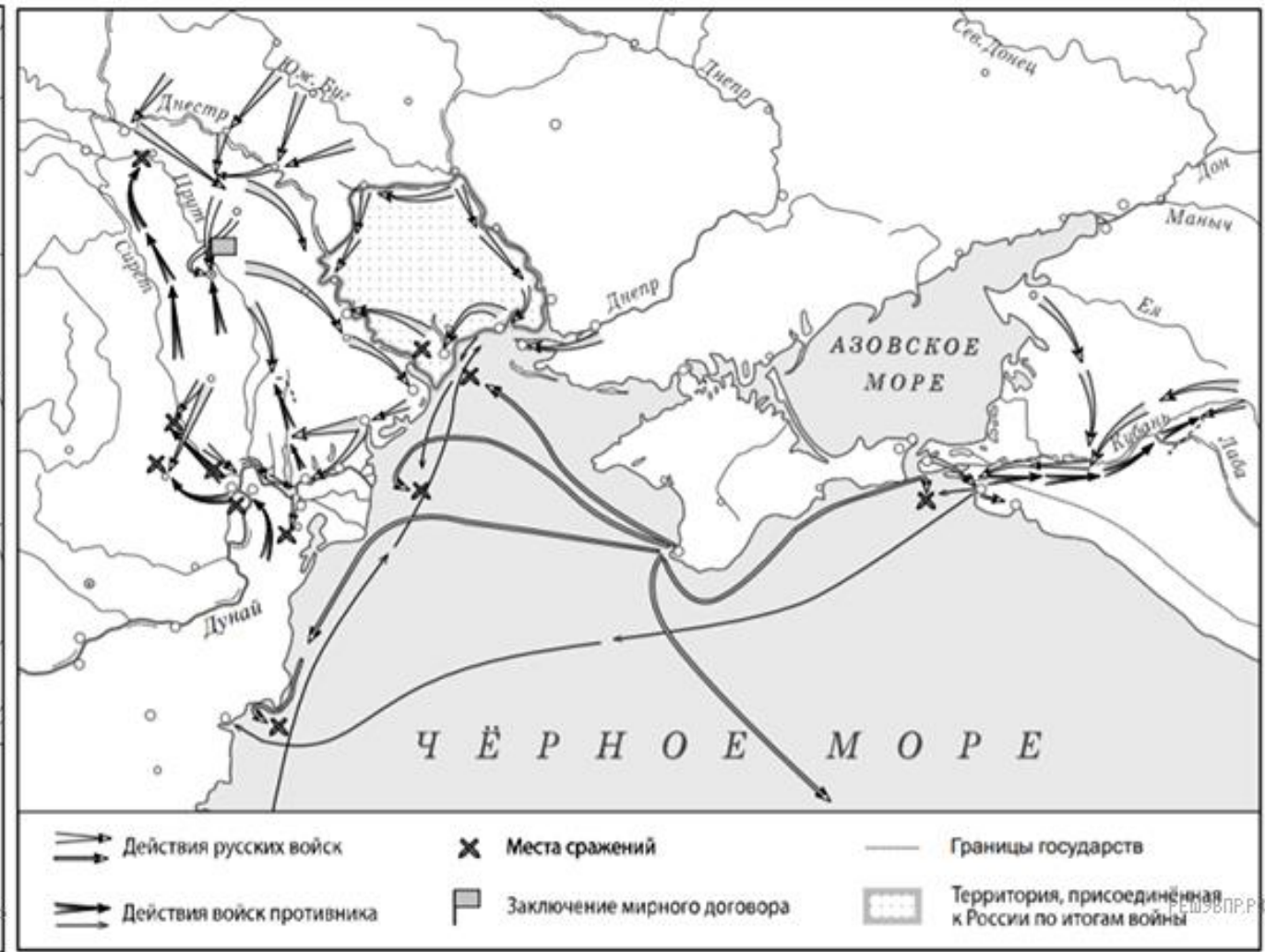
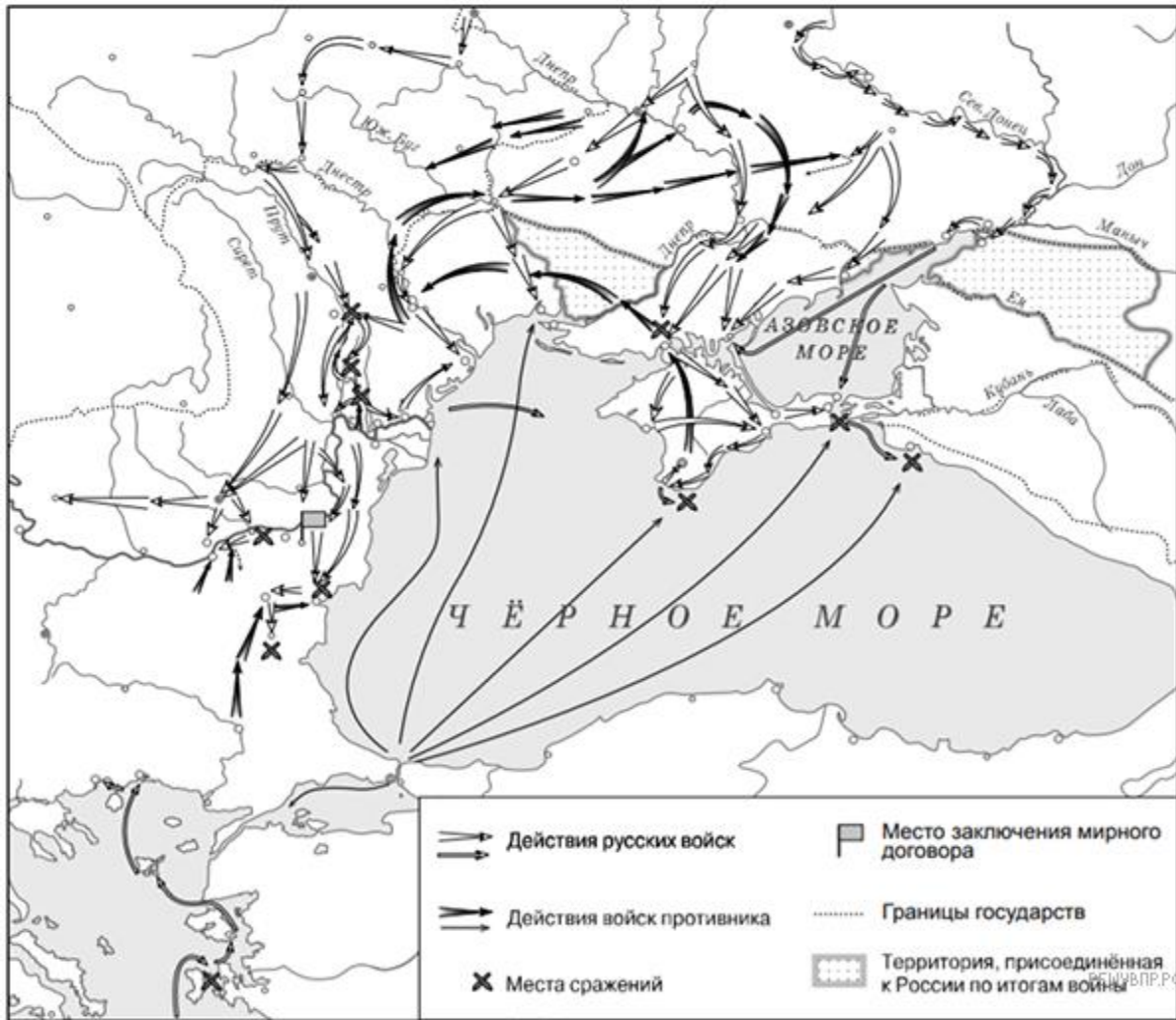
Прочитайте отрывок из работы историка и укажите цифру, которой на схеме обозначена территория, чье название пропущено в данном отрывке. Ответ запишите арабской цифрой (например, 1, 2, 3 и так далее)

«Все решения Венского Конгресса были собраны в Заключительном акте Венского Конгресса. Конгресс санкционировал включение в состав нового королевства Нидерландов территории Австрийских Нидерландов (современная Бельгия), однако все остальные владения Австрии вернулись под контроль Габсбургов, в том числе Ломбардия, Венецианская область, Тоскана, Парма и Тироль... Часть созданного Наполеоном _____ вошла в состав Российской империи под названием [...], а российский император Александр I становился и [...] царем.»



ПРИМЕРЫ ЗАДАНИЙ НА УРОКАХ ИСТОРИИ





Какие задания можно составить к данным картам?



Заполните пропуски в тексте

В [1] году был заключён [2] мирный договор с Турцией. По его условиям Россия расширила выход к [3] морю, получив земли между реками [4] и Южный Буг. Турция признала вхождение [5] в состав России.

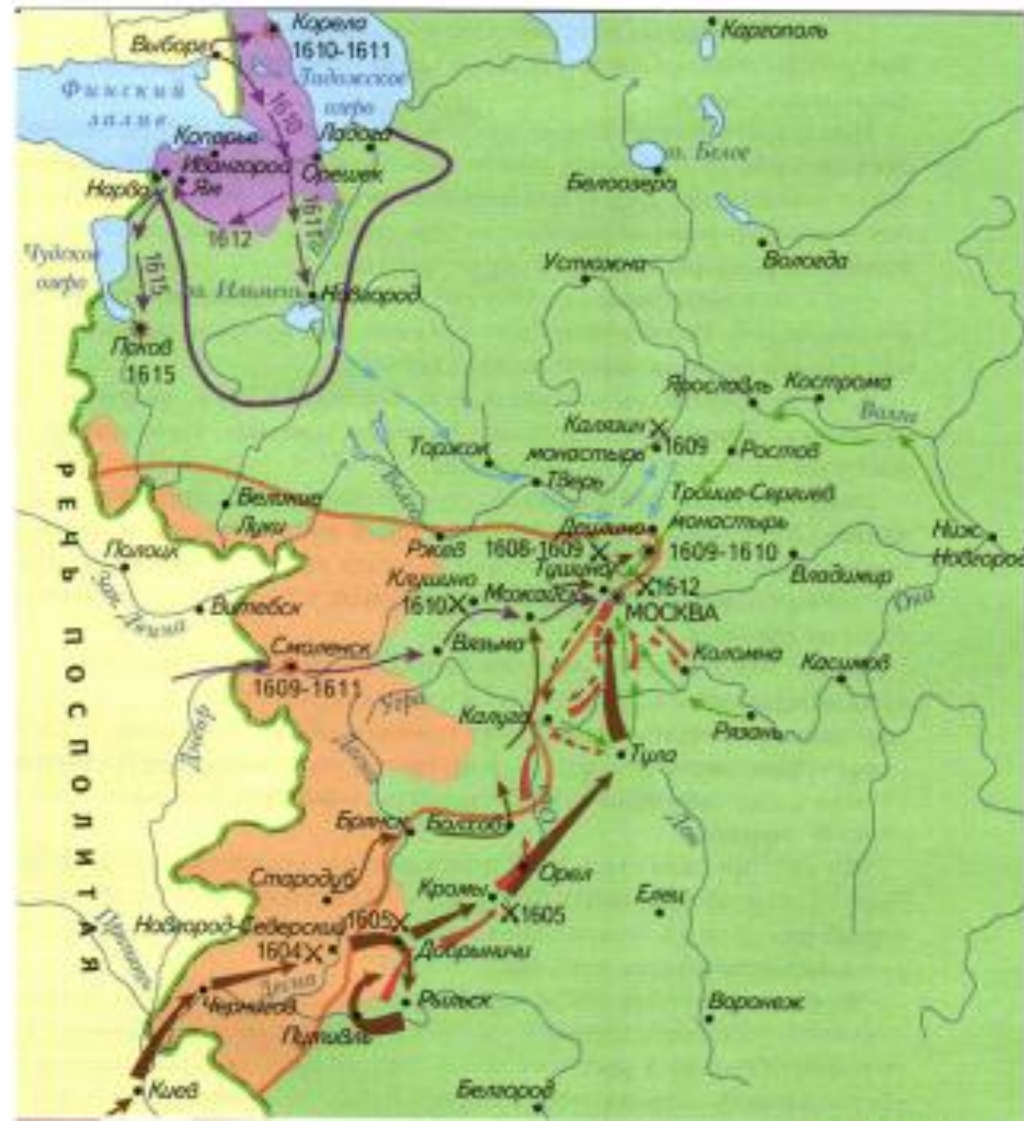
Заполните пропуски в тексте

В [1] году был заключён [2] мирный договор с Турцией. По его условиям Крымское ханство стало независимым, Россия получила выход к [3] морю, а также земли между реками [4] и Южный Буг. Крепости Керчь и [5] стали важными опорными пунктами России в Керченском проливе.



7.

Каким цветом показаны на карте земли, утерянные Россией по условиям:



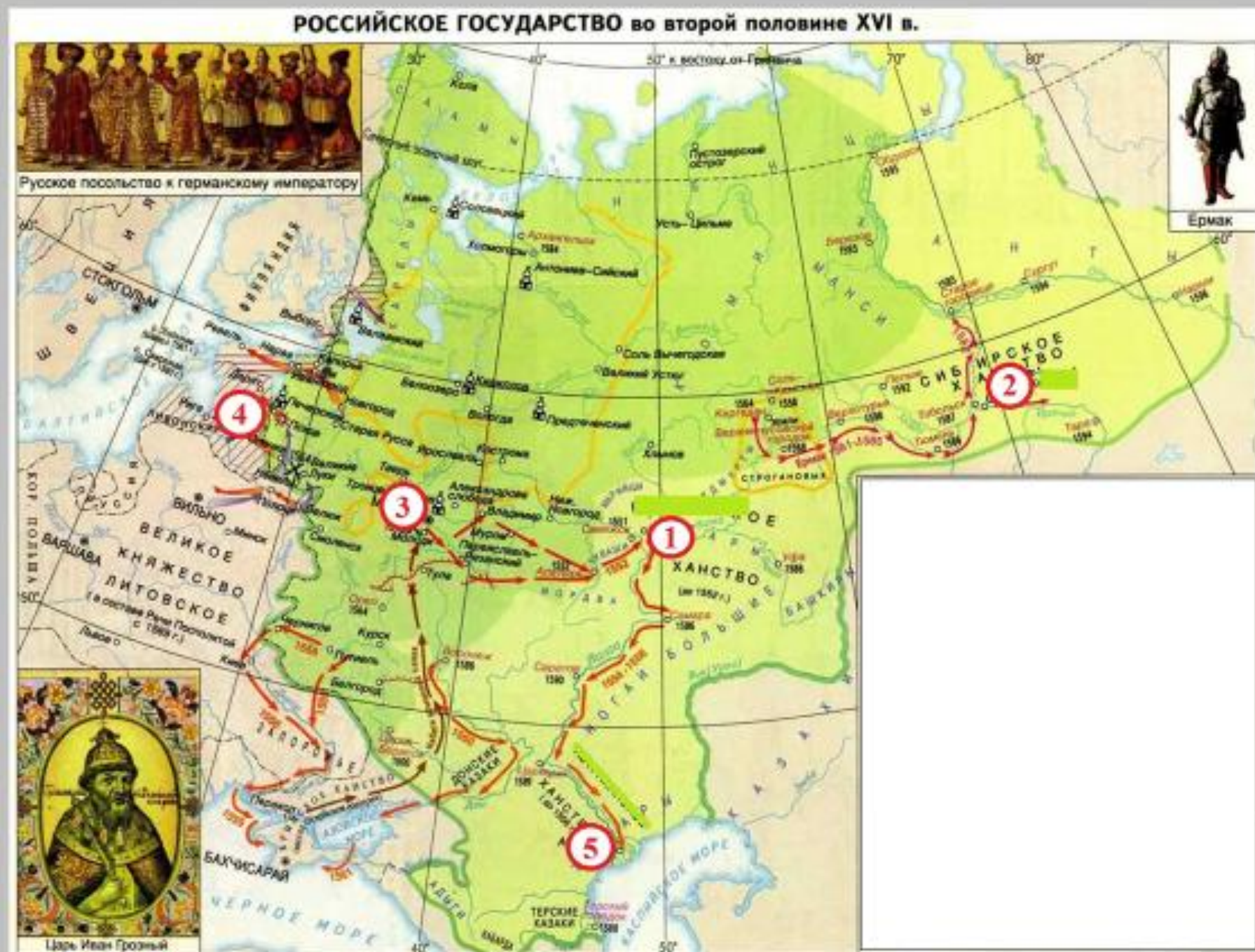
1. Столбовского мира (дата)
2. Деулинского перемирия (дата)

Назовите, какой стране перешли территории, а также даты подписания соглашений

4.

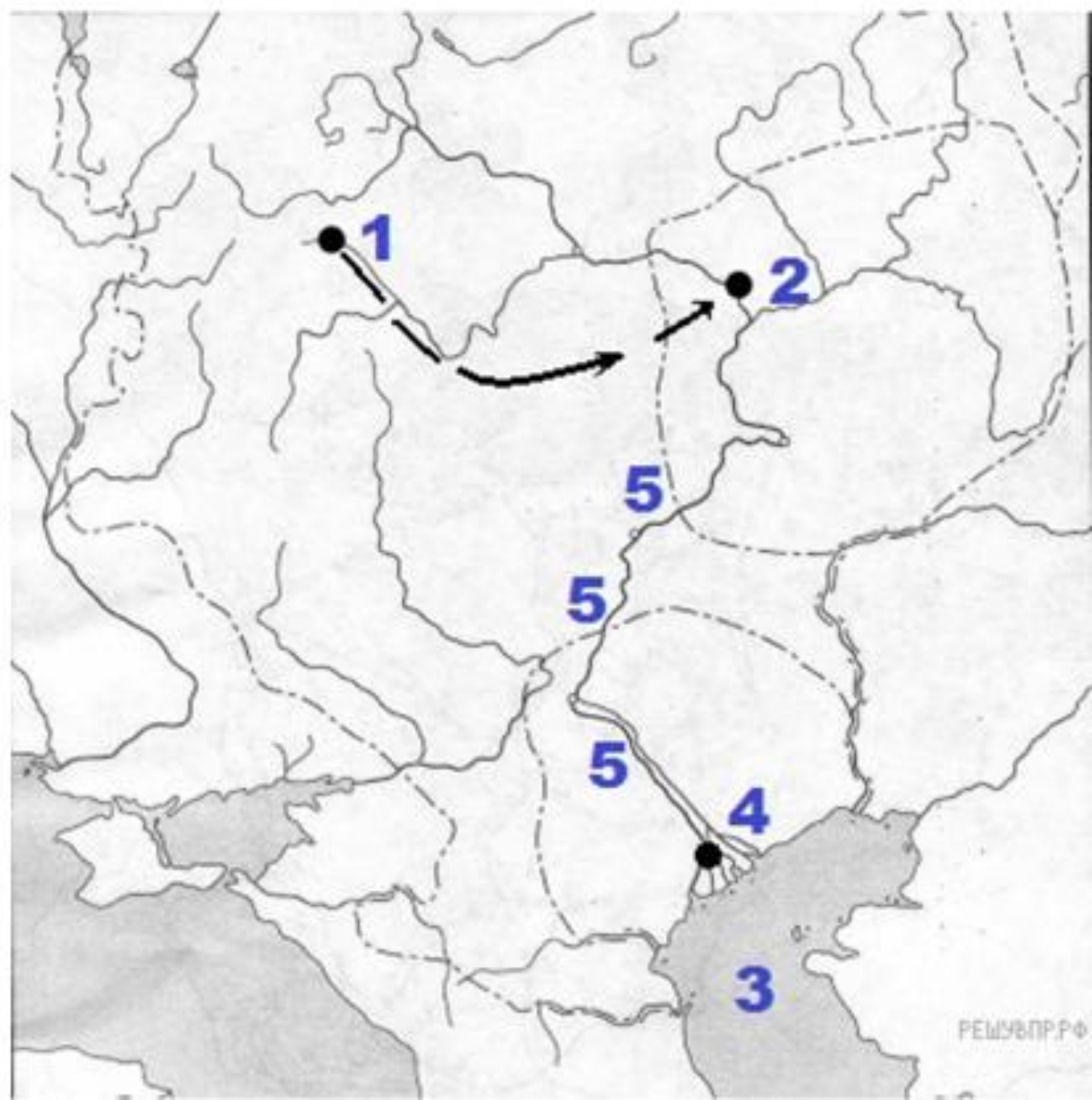
Какими цифрами
на карте
обозначены...:

- a) Москва
- b) Казань
- c) Ливония
- d) Астрахань
- e) Кашлык



7.

- 1) Назовите все географические объекты, отмеченные на карте цифрами.
- 2) В каком году состоялся поход, обозначенный стрелками?
- 3) Назовите военачальника, под руководством которого строились осадные сооружения и производились подкопы под стены крепости, обозначенной цифрой 2.



8.



Назовите фамилию государственного деятеля, получившего почётный титул за присоединение и освоение территорий, обозначенных на схеме цифрой «2»

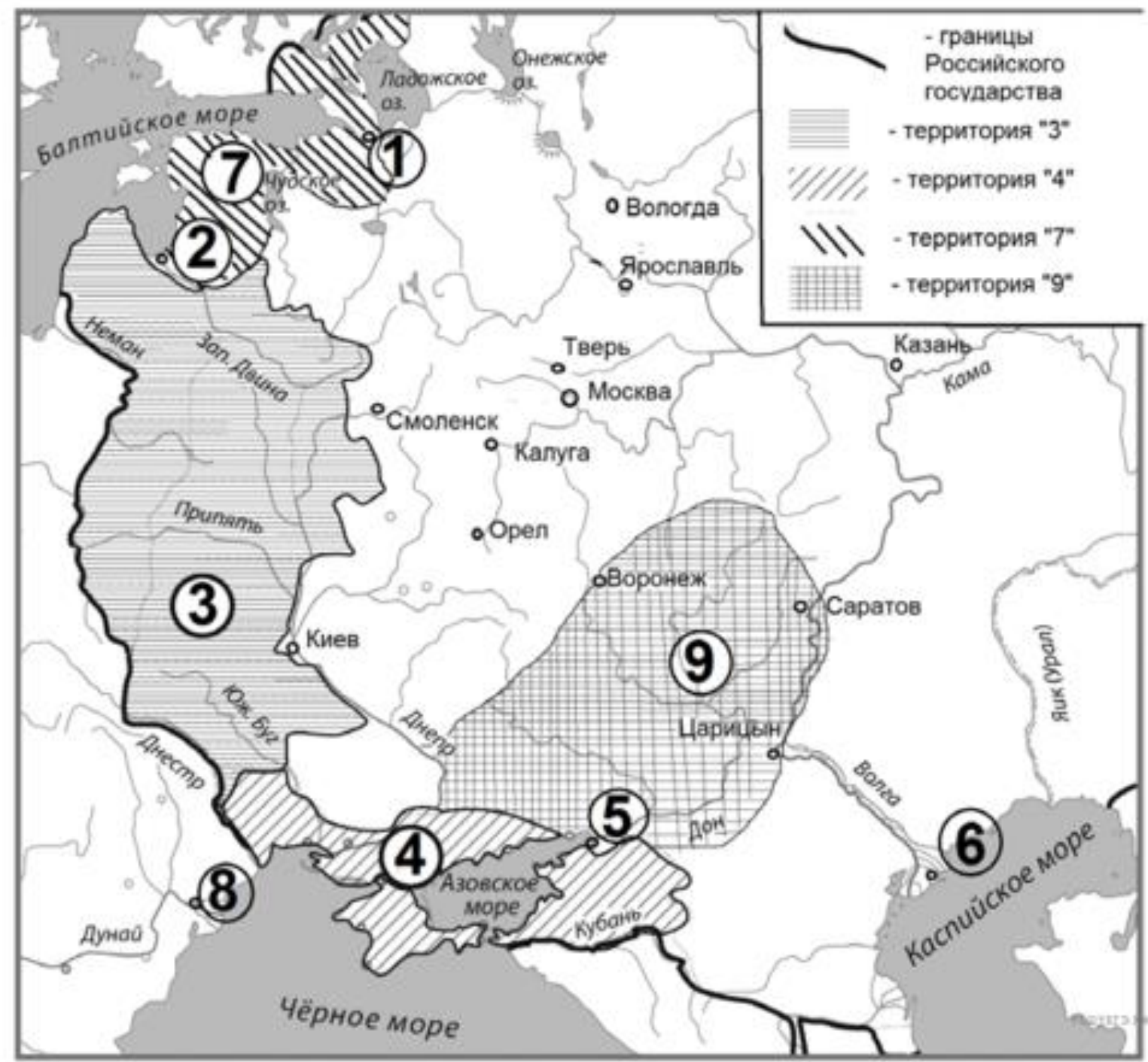
		Военные действия сторон		Места сражений
				Крепости
				РЕШУЕГЭ.Р-4

9.

Прочтите текст о событиях, отражённых на схеме, и, используя схему, укажите название крепости, которое пропущено в этом тексте.

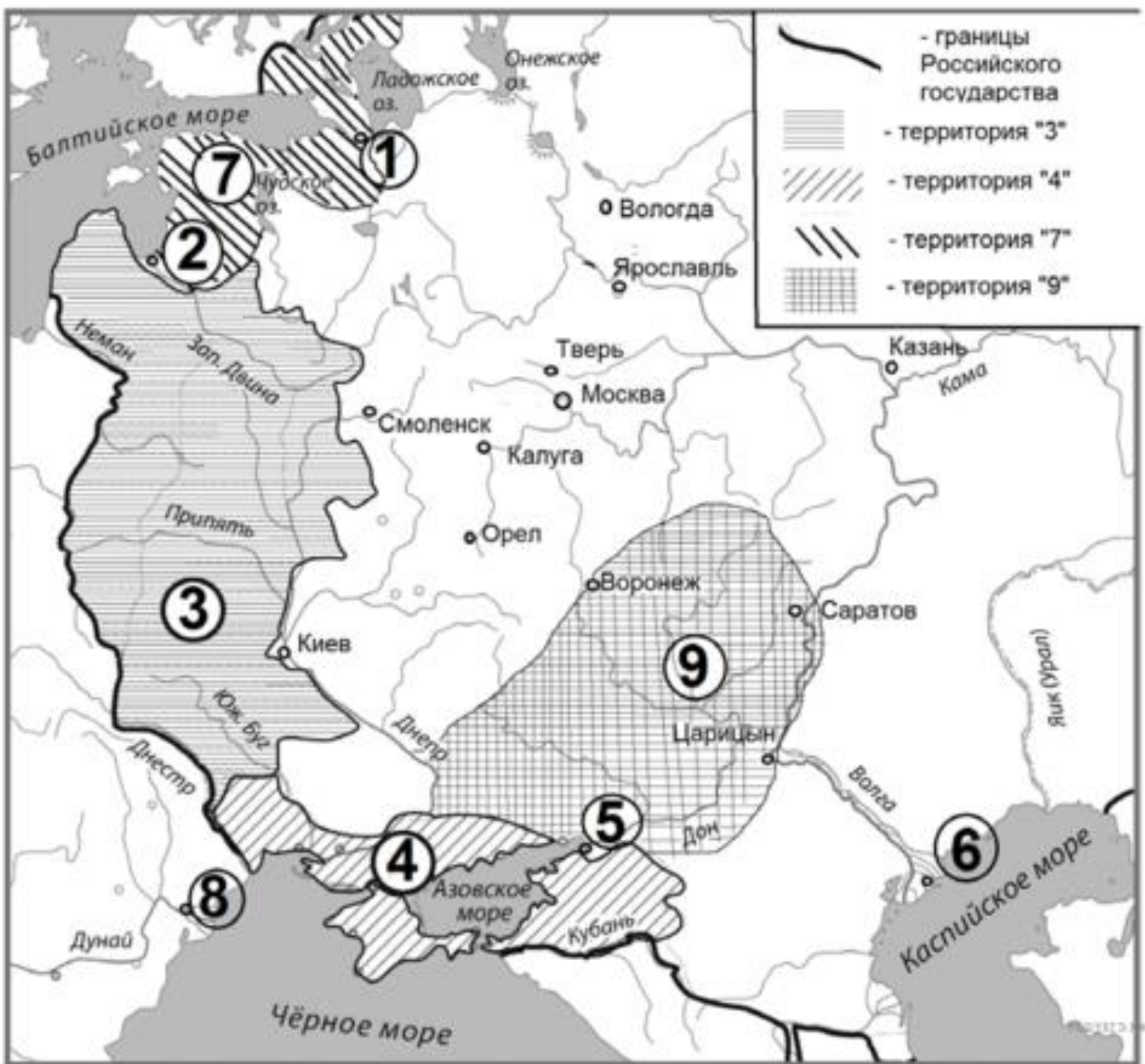
«Отдельный отряд генерал-майора князя Щербатова (около 2 тыс. солдат и 1,5 тыс. казаков), наступавший от Геническа (Геничи) по Арабатской косе, 18 июня захватил крепость Арабат, затем 20 июня отбил контратаку татар на Арабат и 21 июня (2 июля) 1771 без сопротивления взял _____ и 22 июня Еникале».

10.



Укажите год, в котором сформировались границы Российской империи, отображённые на схеме.

11.



Укажите цифры, которыми обозначены территории, вошедшие в состав России по итогам разделов Речи Посполитой